

MA ROUTINE MATHÉMATIQUE



1

du/..... au/.....

Sur ton cahier du jour, termine les suites de nombres :

* 1 - 3 - 5 25

* 28 - 26 - 24 6

2

Sur ton cahier du jour, calcule en ligne les opérations suivantes :

* $20 + 6$

* $12 + 9$

* $7 + 23$

* $29 - 7$

* $36 - 4$

* $39 - 5$

3

Sur ton cahier du jour, range ces nombres dans l'ordre :

* croissant : 12 - 24 - 6 - 15 - 21 - 10 - 27 - 18

* décroissant : 17 - 25 - 8 - 13 - 20 - 28 - 15 - 3

4

Colorie tous les ronds dont le résultat est 10.

$6 + 3$

$3 + 7$

$9 + 1$

$4 + 6$

$2 + 8$

$5 + 4$

$3 + 5$

$5 + 5$

5

Sur ton cahier du jour, trace un carré que tu colorieras en vert. A droite du carré, dessine un coeur rose. A gauche du carré, dessine un soleil.

MA ROUTINE MATHÉMATIQUE

1

du/..... au/.....

Sur ton cahier du jour, termine les suites de nombres :

* 1 - 3 - 5 25

* 28 - 26 - 24 6

2

Sur ton cahier du jour, calcule en ligne les opérations suivantes :

* $20 + 6$

* $12 + 9$

* $7 + 23$

* $29 - 7$

* $36 - 4$

* $39 - 5$

3

Sur ton cahier du jour, range ces nombres dans l'ordre :

* croissant : 12 - 24 - 6 - 15 - 21 - 10 - 27 - 18 -

* décroissant : 17 - 25 - 8 - 13 - 20 - 28 - 15 - 3

4

Colorie tous les ronds dont le résultat est 10.

$6 + 3$

$3 + 7$

$9 + 1$

$4 + 6$

$2 + 8$

$5 + 4$

$3 + 5$

5

Sur ton cahier du jour, trace un carré que tu colorieras en vert. A droite du carré, dessine un coeur rose. A gauche du carré, dessine un soleil.

MA ROUTINE MATHÉMATIQUE



1

du/..... au/.....

Sur ton cahier du jour, termine les suites de nombres :

• 0 - 3 - 6 36

• 48 - 45 - 4212

2

Sur ton cahier du jour, calcule en ligne les opérations suivantes :

• $22 + 9$

• $21 + 13$

• $19 + 7$

• $35 - 6$

• $27 - 12$

• $31 - 9$

3

Sur ton cahier du jour, range ces nombres dans l'ordre :

• croissant : 32 - 24 - 39 - 11 - 28 - 7 - 18 - 33

• décroissant : 23 - 6 - 17 - 37 - 25 - 38 - 16 - 29

4

Colorie tous les ronds dont le résultat est 10.

$8 + 2$

$6 + 4$

$7 + 4$

$2 + 7$

$1 + 8$

$5 + 5$

$9 + 1$

$7 + 3$

5

Sur ton cahier du jour, dessine une maison, en haut ajoute 2 nuages. Un oiseau vole à droite des nuages. Dessine un arbre à gauche de la maison et 5 fleurs roses entre la maison et l'arbre.

MA ROUTINE MATHÉMATIQUE



1

du/..... au/.....

Sur ton cahier du jour, termine les suites de nombres :

• 0 - 3 - 6 36

• 48 - 45 - 4212

2

Sur ton cahier du jour, calcule en ligne les opérations suivantes :

• $22 + 9$

• $21 + 13$

• $19 + 7$

• $35 - 6$

• $27 - 12$

• $31 - 9$

3

Sur ton cahier du jour, range ces nombres dans l'ordre :

• croissant : 32 - 24 - 39 - 11 - 28 - 7 - 18 - 33

• décroissant : 23 - 6 - 17 - 37 - 25 - 38 - 16 - 29

4

Colorie tous les ronds dont le résultat est 10.

$8 + 2$

$6 + 4$

$7 + 4$

$2 + 7$

$1 + 8$

$5 + 5$

$9 + 1$

$7 + 3$

5

Sur ton cahier du jour, dessine une maison, en haut ajoute 2 nuages. Un oiseau vole à droite des nuages. Dessine un arbre à gauche de la maison et 5 fleurs roses entre la maison et l'arbre.

MA ROUTINE MATHÉMATIQUE



1

du/..... au/.....

Sur ton cahier du jour, termine les suites de nombres :

• $12 - 14 - 16$ 36
• $50 - 48 - 46$ 26

2

Sur ton cahier du jour, calcule en ligne les opérations suivantes :

• $12 + 14$ • $9 + 18$ • $28 + 14$
• $50 - 5$ • $14 - 7$ • $32 - 6$

3

Sur ton cahier du jour, range ces nombres dans l'ordre :

• croissant : $49 - 36 - 13 - 5 - 50 - 29 - 34 - 47$
• décroissant : $25 - 19 - 37 - 32 - 46 - 31 - 16 - 41$

4


Colorie tous les ronds dont le résultat est 20.

$16 + 5$ $12 + 8$ $19 + 2$ $11 + 9$
 $15 + 5$ $13 + 7$ $13 + 8$ $4 + 16$

5

source : à portée de Maths-hachette Education

- a- Qui est devant Clara ?
- b- Qui est le premier ?
- c- Qui est derrière Noa ?
- d- Qui est le dernier ?
- e- Qui est entre Axel et Fanny ?
- f- Qui est avant-dernier ?



Tony Axel Carla Fanny Noa

MA ROUTINE MATHÉMATIQUE



1

du/..... au/.....

Sur ton cahier du jour, termine les suites de nombres :

• $12 - 14 - 16$ 36
• $50 - 48 - 46$ 26

2

Sur ton cahier du jour, calcule en ligne les opérations suivantes :

• $12 + 14$ • $9 + 18$ • $28 + 14$
• $50 - 5$ • $14 - 7$ • $32 - 6$

3

Sur ton cahier du jour, range ces nombres dans l'ordre :

• croissant : $49 - 36 - 13 - 5 - 50 - 29 - 34 - 47$
• décroissant : $25 - 19 - 37 - 32 - 46 - 31 - 16 - 41$

4

Colorie tous les ronds dont le résultat est 20.

$16 + 5$ $12 + 8$ $19 + 2$ $11 + 9$
 $15 + 5$ $13 + 7$ $13 + 8$ $4 + 16$

5

source : à portée de Maths-hachette Education

- a- Qui est devant Clara ?
- b- Qui est le premier ?
- c- Qui est derrière Noa ?
- d- Qui est le dernier ?
- e- Qui est entre Axel et Fanny ?
- f- Qui est avant-dernier ?



Tony Axel Carla Fanny Noa

MA ROUTINE MATHÉMATIQUE



1

du/..... au/.....

Sur ton cahier du jour, termine les suites de nombres :

- 0 - 5 - 10 50
- 60 - 55 - 50 0

2

Sur ton cahier du jour, calcule en ligne les opérations suivantes :

- $23 + 22$ • $14 + 7$ • $30 + 18$
- $45 - 6$ • $36 - 13$ • $21 - 5$

3

Sur ton cahier du jour, range ces nombres dans l'ordre :

- croissant : 31 - 7 - 19 - 46 - 24 - 28 - 52 - 20
- décroissant : 6 - 25 - 52 - 17 - 9 - 49 - 56 - 31

4

Colorie tous les ronds dont le résultat est 20.

6 + 14 17 + 3 1 + 19 15 + 4

1 + 9 12 + 8 2 + 18 10 + 10

5

source : à portée de Maths-hachette Education

Indique, pour chaque dessin, dans quelle main chaque enfant tient la balle.



1

2

3

MA ROUTINE MATHÉMATIQUE



1

du/..... au/.....

Sur ton cahier du jour, termine les suites de nombres :

- 0 - 5 - 10 50
- 60 - 55 - 50 0

2

Sur ton cahier du jour, calcule en ligne les opérations suivantes :

- $23 + 22$ • $14 + 7$ • $30 + 18$
- $45 - 6$ • $36 - 13$ • $21 - 5$

3

Sur ton cahier du jour, range ces nombres dans l'ordre :

- croissant : 31 - 7 - 19 - 46 - 24 - 28 - 52 - 20
- décroissant : 6 - 25 - 52 - 17 - 9 - 49 - 56 - 31

4

Colorie tous les ronds dont le résultat est 20.


6 + 14 17 + 3 1 + 19 15 + 4

1 + 9 12 + 8 2 + 18 10 + 10

5

source : à portée de Maths-hachette Education

Indique, pour chaque dessin, dans quelle main chaque enfant tient la balle.



1

2

3

MA ROUTINE MATHÉMATIQUE



1

du/..... au/.....

Sur ton cahier du jour, termine les suites de nombres :

$\cdot 49 - 51 - 53$ 71

$\cdot 70 - 68 - 66$ 50

2

Sur ton cahier du jour, calcule en ligne les opérations suivantes :

$\cdot 36 + 12$

$\cdot 8 + 25$

$\cdot 40 + 25$

$\cdot 63 - 12$

$\cdot 25 - 19$

$\cdot 41 - 15$

3

Sur ton cahier du jour, Ecris ces nombres en lettres :

12 - 14 - 19 - 11 - 13 - 17 - 16 - 18 - 15

4

Pose ces additions en colonne.

$\cdot 45 + 21$


$\cdot 34 + 41$

$\cdot 52 + 27$

$\cdot 23 + 43$

5

Relie les 3 points alignés.



MA ROUTINE MATHÉMATIQUE



1

du/..... au/.....

Sur ton cahier du jour, termine les suites de nombres :

$\cdot 49 - 51 - 53$ 71

$\cdot 70 - 68 - 66$ 50

2

Sur ton cahier du jour, calcule en ligne les opérations suivantes :

$\cdot 36 + 12$

$\cdot 8 + 25$

$\cdot 40 + 25$

$\cdot 63 - 12$

$\cdot 25 - 19$

$\cdot 41 - 15$

3

Sur ton cahier du jour, Ecris ces nombres en lettres :

12 - 14 - 19 - 11 - 13 - 17 - 16 - 18 - 15

4

Pose ces additions en colonne.

$\cdot 45 + 21$

$\cdot 34 + 41$

$\cdot 52 + 27$

$\cdot 23 + 43$

5

Relie les 3 points alignés.

