

lundi

1. Range les nombres dans l'ordre croissant.

15 - 9 - 12 - 17 - 6 - 14

... - ... - ... - ... - ... - ...

2. Complète avec **un, une** ou **des**.

- _____ cerise
- _____ kiwi
- _____ tomates
- _____ bananes

mardi

1. Calcule puis entoure le tout :

- $5 + 15 =$ _____
- $20 - 7 =$ _____
- $12 - 4 =$ _____
- $4 + 10 =$ _____

2. Complète avec **le, la** ou **les**.

- _____ chatons
- _____ lapine
- _____ tigron
- _____ lions

jeudi

1. Compare les nombres avec **<**, **>** ou **=**.

12 ... 19

14 ... 14



9 ... 13

18 ... 6

20 ... 16

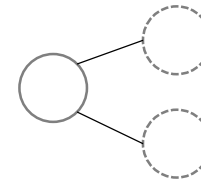
15 ... 11

2. Recopie les phrases en cursive.

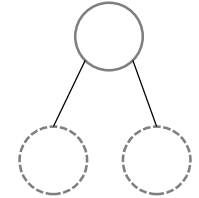
- Elle range.  _____
- Elles rangent.  _____

vendredi

1. Complète chaque schéma puis calcule.






$19 - 5 =$ _____



$3 + 14 =$ _____

2. Relie.

- le poulain 
- les chiens 
- une chèvre 

-  il
-  ils
-  elle
-  elles

lundi

1. Range les nombres dans l'ordre décroissant.

28 - 11 - 25 - 8 - 16 - 22

... - ... - ... - ... - ... - ...

2. Complète avec **un, une** ou **des**.

- _____ tortues
- _____ légume
- _____ fleur
- _____ couteau

mardi

1. Calcule puis entoure le tout :

- $3 + 24 =$ _____
- $22 - 2 =$ _____
- $27 - 4 =$ _____
- $19 + 6 =$ _____

2. Complète avec **le, la** ou **les**.

- _____ zèbre
- _____ truie
- _____ vaches
- _____ sardines

jeudi

1. Compare les nombres avec **<**, **>** ou **=**.

18 ... 21

17 ... 11



20 ... 8

29 ... 9

25 ... 13

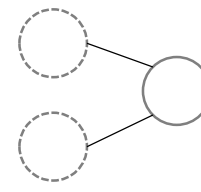
12 ... 12

2. Recopie les phrases en cursive.

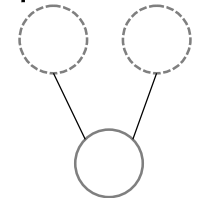
- Il chante.  _____
- Ils chantent.  _____

vendredi

1. Complète chaque schéma puis calcule.



$28 - 3 =$ _____



$5 + 20 =$ _____

2. Relie.

les tomates 

un sanglier 

la brebis 

 il

 ils

 elle

 elles

lundi

1. Range les nombres dans l'ordre croissant.

17 - 30 - 21 - 19 - 4 - 38

... - ... - ... - ... - ... - ...

2. Complète avec **un, une** ou **des**.

- _____ plumes
- _____ chameau
- _____ fourchette
- _____ radio

mardi

1. Calcule puis entoure le tout :

- $32 + 6 =$ _____
- $23 - 5 =$ _____
- $35 - 4 =$ _____
- $4 + 26 =$ _____

2. Complète avec **le, la** ou **les**.

- _____ disques
- _____ gommes
- _____ nez
- _____ peinture

jeudi

1. Compare les nombres avec **<**, **>** ou **=**.

16 ... 31

34 ... 27

23 ... 18

29 ... 29

30 ... 13

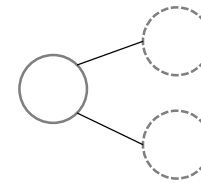
23 ... 32

2. Recopie les phrases en cursive.

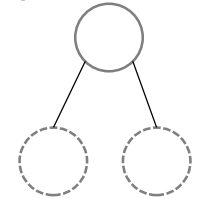
- Les filles jouent. → _____
- Julie joue. → _____

vendredi

1. Complète chaque schéma puis calcule.



$26 - 4 =$ _____



$2 + 37 =$ _____

2. Relie.

- des fées
- les loups
- une reine

- il
- ils
- elle
- elles

lundi

1. Range les nombres dans l'ordre croissant.

23 - 17 - 34 - 52 - 48 - 9

... - ... - ... - ... - ... - ...

2. Complète avec **un, une** ou **des**.

- _____ flèche
- _____ poires
- _____ cartes
- _____ manteau

mardi

1. Calcule puis entoure le tout :

- $50 + 9 =$ _____
- $36 - 5 =$ _____
- $43 - 5 =$ _____
- $7 + 29 =$ _____

2. Complète avec **le, la** ou **les**.

- _____ cheminée
- _____ murs
- _____ armoires
- _____ voiture

jeudi

1. Compare les nombres avec **<**, **>** ou **=**.

53 ... 27

34 ... 24

39 ... 42

13 ... 49

56 ... 56

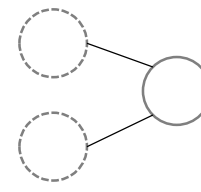
34 ... 50

2. Recopie les phrases en cursive.

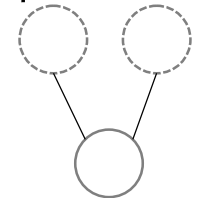
- Ramy pleure. → _____
- Ils pleurent. → _____

vendredi

1. Complète chaque schéma puis calcule.



$45 - 3 =$ _____



$6 + 48 =$ _____

2. Relie.

- la pluie
- des fruits
- un dé

- il
- ils
- elle
- elles